



עבודה לכיתה ה' (1)

שם התלמיד: _____

בית ספר: _____ כתה: _____

1. חשבו בדרך שלכם:

ב. _____

א. $63 - 38 =$
 $370 - 120 =$

ד. $3 \times 9 =$

ג. $120 + \underline{\quad} = 300$

ו. $20 \times 3 =$

ה. $6 \times \underline{\quad} = 24$

ז. $30 : 10 = \underline{\quad}$

2. השלימו את הסדרות:

א. 95 , 115 , 135 _____ , _____

ב. _____ , 198 , _____ , 218 , 228

ג. _____ , 302 , 298 , _____ , _____ , 286

ד. _____ , 180 , 210 , _____ , _____



3. חשבו בדרך שלכם :

$5032 - 2217 =$	ב.	$3002 - 2997 =$	א.
$7 : 3 =$	ד.	$20 \times 40 =$	ג.
$100 : 5 =$	ו.	$19 : 2 =$	ה.
		$120 : 10 =$	ז.

4. א. הקיפו בעיגול את המספרים המתחלקים ב-2

27 2 106 190 35

ב. הקיפו בעיגול את המספרים המתחלקים ב-5.

30 65 100 552 5

ג. הקיפו בעיגול את המספרים המתחלקים ב-10.

35 101 40 303 100

5. השלימו :

א. ספרת האלפים במספר 107352 היא _____

ב. ספרת העשרות-אלפים במספר 528106 היא _____



6. דן קנה 4 חוברות. מחיר כל חוברת 8 שקלים.

דן נתן למוכר שטר של 50 שקלים. כמה עודף יקבל דן מהמוכר?

א. הראו את דרך פתרונכם:

תשובה: _____

ב. כתבו תרגילים מתאימים _____

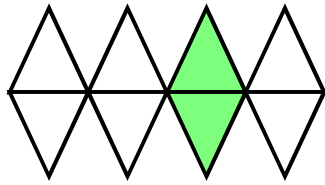
7. מר שמואלי מנהל קיוסק בבית הספר. היו לו 900 ש"ח לקניית סחורה.

הוא קנה שתייה ב- 306 ש"ח, וממתקים בשווי 239 ש"ח. כמה כסף נשאר לו?

א. הראו את דרך פתרונכם:

תשובה: _____

ב. כתבו תרגילים מתאימים _____



8. מהו החלק הצבוע? כתבו כשבר בשתי דרכים.

א. _____
ב. _____

9. דני קיבל דמי כיס. ב $\frac{1}{2}$ מהכסף קנה ארטיק, וב $\frac{3}{10}$ מהכסף קנה עט. מה נכון לומר:


(א) הארטיק עלה יותר כסף מהעט.

(ב) העט עלה יותר כסף מהארטיק.

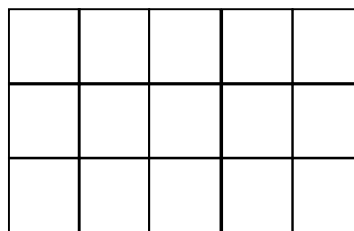
(ג) שניהם עולים אותו דבר.

10. הקיפו את השבר הגדול מבין השניים: $\frac{3}{5}$, $\frac{4}{9}$

11. סדרו את השברים מקטן עד גדול: $\frac{2}{4}$, $\frac{2}{7}$, $\frac{2}{3}$, $\frac{2}{6}$, $\frac{2}{5}$



12. צבעו $\frac{2}{5}$ של כל הצורה הזאת:



13. פתרו:

$$\frac{3}{10} + \frac{3}{10} = \frac{\square}{\square}$$